

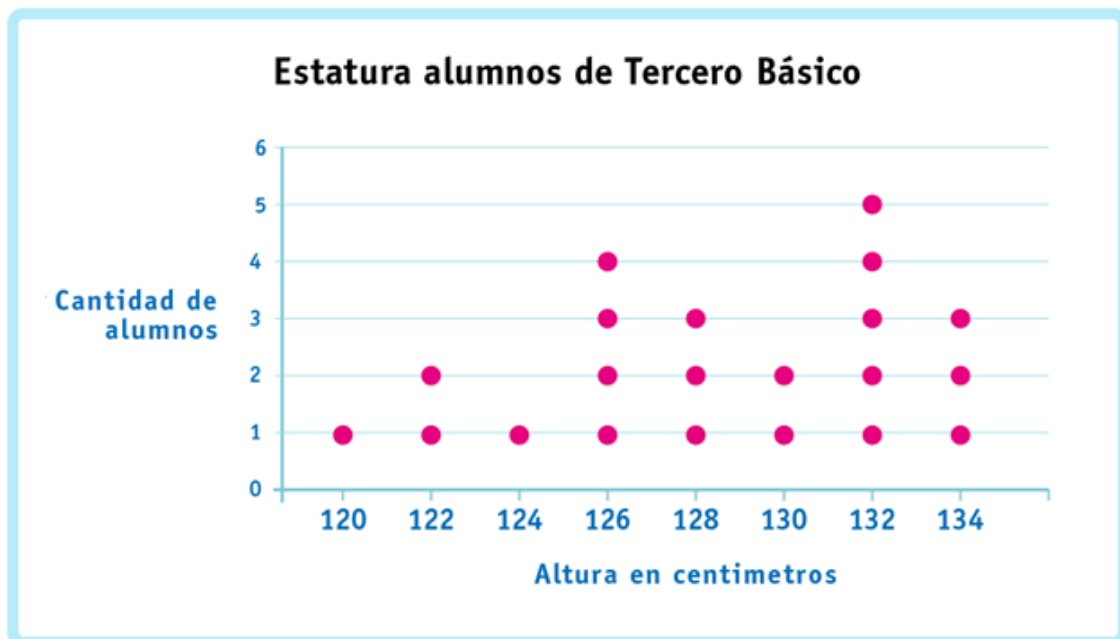


Ficha virtual 3° básico N°12
“Diagramas de puntos”

Nombre: _____ Curso: _____ Fecha: _____

Objetivo de aprendizaje: Representar la variabilidad de los datos, usando diagramas de puntos.
(OA 26).

1. El siguiente gráfico de puntos, muestra las estaturas de los alumnos del Tercer Año Básico.



Según ello, responde:


a) ¿Cuántos alumnos son en total en el Tercero Año Básico? _____

b) ¿Cuántos alumnos miden 126 centímetros? _____

c) ¿Cuál es la altura que más se repite? ¿Por qué? _____

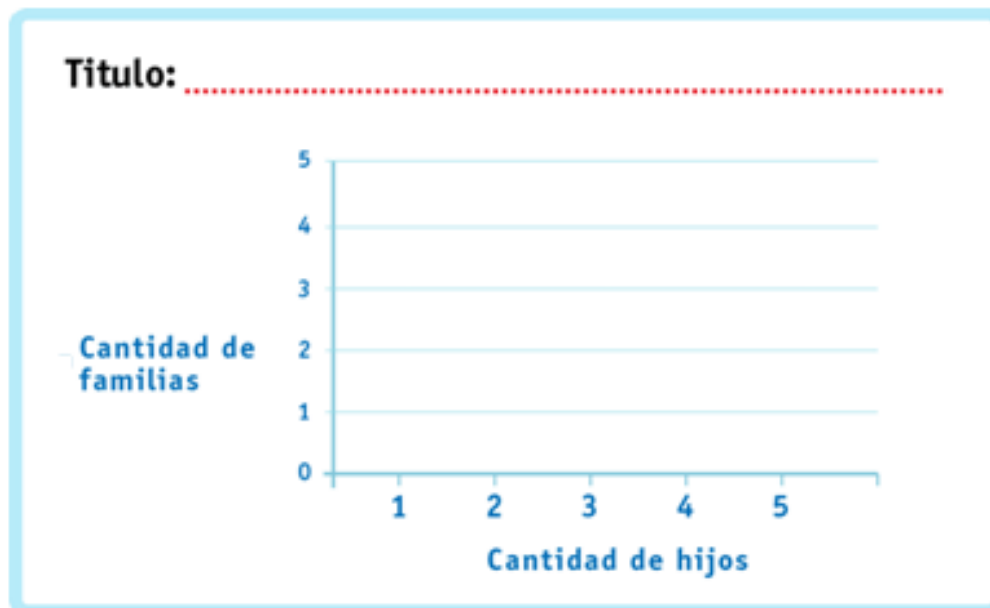


2. En un condominio viven 5 familias (identificadas por sus apellidos) constituidas por padres e hijos. La cantidad de hijos por familia está dada en la siguiente tabla:



Familia	Pérez	Eyzaguirre	Ríos	Amenábar	Rojas
Cantidad de hijos	3	5	1	1	2

Para esta situación construye el diagrama de puntos.



a) ¿En cuántas familias hay 1 hijo?. ¿Qué familias son? _____

b) ¿En cuántas familias hay más de dos hijos?. ¿Por qué? _____

c) ¿Cuánta(s) familia(s) tienen dos hijos? _____